

VY_32_INOVACE_CAJS3.18

Název : Krajina v okolí domova

Datum ověření: 6.11.2012 v 3.A

Autor: Blanka Gajdorusová

Vhodné zařazení: Člověk a jeho svět pro 3.ročník

Časová dotace: 15 minut

Metodické poznámky:


Pracovní list je vhodný jako opakování po probrání učiva o povrchu a využití krajiny.

Krajina v okolí domova.


1. Naše vlast se jmenuje _____.

Její povrch je rozmanitý . Výšku krajiny měříme v metrech, porovnáváme ji s h_____m_____a proto jí říkáme _____.


2. Vybarvi podle barvy na mapě.




nížiny



vodní toky a nádrže



hory



vysočiny, pahorkatiny

Spojte dvojice, které k sobě patří a vybarvěte je stejnou barvou.

krajina využívaná pro těžbu dřeva	nížina
krajina s výrobními podniky	lesnatá krajina
krajina využívaná pro pěstování užitkových rostlin, chov hospodářských zvířat	vysočina
krajina kopcovitá, se svahy	průmyslová krajina
krajina rovná, málo členitá	zemědělská krajina