

Název: Středověká vesnice – PRACOVNÍ LIST VY_32_INOVACE_D3.10

Autor: Horáková Ladislava

Předmět: Dějepis

Třída: 7. ročník ZŠ

Časová dotace: 45 min – 60 min.

Ověření: 27.11.2012 7.B, 29.11.2012 7.A

Metodické poznámky: Pracovní list je doplňujícím materiálem ke stejnojmenné prezentaci

Třída:

Skupina:

Středověká vesnice – PRACOVNÍ LIST

1. Vysvětlete pojem KOLONIZACE a zavzpomínejte, kdy jste se již v dějepise s tímto pojmem setkali?

2. Zakresli do tabulky princip trojpolního systému

1. rok			
2. rok			
3. rok			

3. Pokuste se vysvětlit rozdíl mezi jhem a chomoutem. Je chomout lepší? Proč?

4. Určete pomocí dějepisného atlasu, ve kterých oblastech země docházelo nejčastěji k novému osidlování?

5. Vypište alespoň 5 budov, které se nacházely ve středověké vesnici:

6. Doplňte název osoby, která ve vsi zastávala úlohu úředníka R _ _ _ _ _ Ř

7. Pokuste se zakreslit tvar vesnice, která vznikla:

a) OKOLO NÁVSI

b) PODÉL CESTY

8. Vysvětlete, jak přišly ke svým názvům tyto vesnice:

Lhota, Lhůta, Lhotka –

Žďár –

9. Označte, kdo z následujících osob se mohl stát majitelem a zakladatelem vesnice:

Panovník švec šlechtic zbrojnoš obchodník představený řádu rychtář

10. Usazovali se na našem území v nových vesnicích také cizinci?

NE ANO(ze kterých zemí nejčastěji)

RĚŠENÍ

Třída:

Skupina:

Středověká vesnice – PRACOVNÍ LIST

1. Vysvětlete pojem KOLONIZACE a zavzpomínejte, kdy jste se již v dějepise s tímto pojmem setkali?

OBSAZOVÁNÍ A ZÍSKÁVÁNÍ NOVÉ PŮDY

6. VOJ. – STAROVĚKÉ ŘECKO – VELKÁ ŘECKÁ KOLONIZACE
OSIDLOVÁNÍ NOVÉHO ÚZEMÍ

2. Zakresli do tabulky princip trojpolního systému

1. rok	JARŮ	ÚHOR	OZIM
2. rok	OZIM	JARŮ	ÚHOR
3. rok	ÚHOR	OZIM	JARŮ

3. Pokuste se vysvětlit rozdíl mezi jhem a chomoutem. Je chomout lepší? Proč?

JHO (JARHO) – DALO SE POUŽÍT JEN V HOVĚŽÍHO DOBYTKA,
KTERÝ JE ZAPRAŽENÝ JEN ZA HORNÍ ČÁST KRKU
ANO – CHOMOUT – OKOLO CELÉHO KRKU – VĚTŠÍ TAŽNÁ SÍLA

4. Určete pomocí dějepisného atlasu, ve kterých oblastech země docházelo nejčastěji k novému osidlování?

MIMO ÚZEMÍ BÝVALÉHO ŘÍMSKÉHO IMPERIA
V ČECHÁCH – HLAVNĚ V POHRANIČÍ

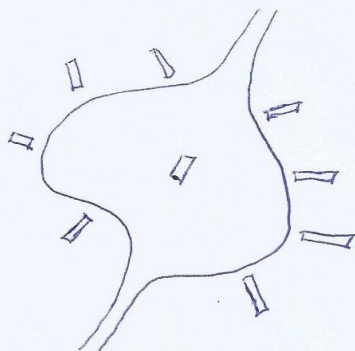
5. Vypište alespoň 5 budov, které se nacházely ve středověké vesnici:

VODNÍ MLÝN, KRČHA, FARNÍ KOSTEL, KOVÁRNA,
OBYTNÉ A HOSPODÁŘSKÉ BUDOVY

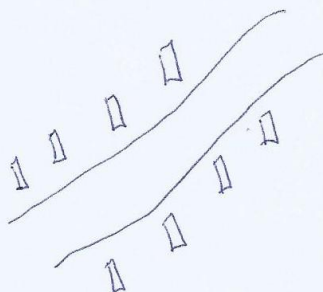
6. Doplňte název osoby, která ve vsi zastávala úlohu úředníka RYCHTÁŘ

7. Pokuste se zakreslit tvar vesnice, která vznikla:

a) OKOLO NÁVSI



b) PODÉL CESTY



8. Vysvětlete, jak přišly ke svým názvům tyto vesnice:

Lhota, Lhůta, Lhotka – VESNICE, KTERÁ VZNIKALA NOVĚ, BYLA NA URČITOU DOBU - LHŮTU - OSVOBOZENA OD POPLATKŮ

Žďár – VESNICE VZNIKLA NA MÍSTĚ, KTERÉ BYLO ZÍSKÁNO VYPÁLENÍM, VYŽDĚNÍM LESNÍHO POROSTU

9. Označte, kdo z následujících osob se mohl stát majitelem a zakladatelem vesnice:

Panovník švec šlechtic zbrojnoš obchodník představený řádu
rychtář

10. Usazovali se na našem území v nových vesnicích také cizinci?

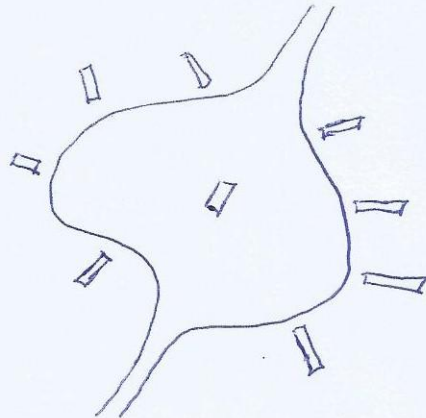
NE

ANO (ze kterých zemí nejčastěji)

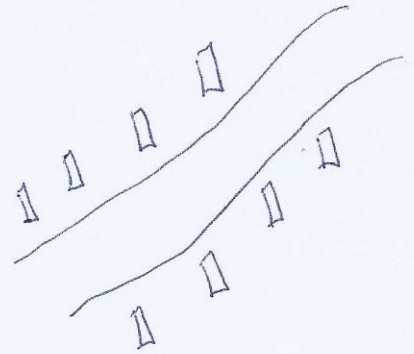
NIZOZEMÍ
NĚMECKO
BELGIE

7. Pokuste se zakreslit tvar vesnice, která vznikla:

a) OKOLO NÁVSI



b) PODÉL CESTY



8. Vysvětlete, jak přišly ke svým názvům tyto vesnice:

Lhota, Lhůta, Lhotka – VESNICE, KTERÁ VZNIKALA NOVĚ, BYLA NA UK
DOBU - LHŮTU - OSVOBOZENA OD POPLATKŮ

Žďár – VESNICE VZNIKLA NA MÍSTĚ, KTERÉ BYLO ZÍSKÁNO VYP.
VYŽDĚŘENÍM LESNÍHO POROSTU

9. Označte, kdo z následujících osob se mohl stát majitelem a zakladatelem vesnice:

Panovník švec šlechtic zbrojnoš obchodník představený řádu
rychtář

10. Usazovali se na našem území v nových vesnicích také cizinci?

NE ANO (ze kterých zemí nejčastěji)

NIZOZEMÍ
NĚMECKO
BELGIE