

Název: Nakupujeme (číselný obor do 20)

Autor: Stanislava Mašková

Datum ověření: 21.3.2012

Vhodné zařazení: Matematika 1.ročník










Časová náročnost: 20 minut

Metodické poznámky: List procvičuje početní operace v číselném oboru do 20.









































Obrázky byly použity z kolekce Klipart a

z <http://www.fotosearch.cz/ilustrace/tu%C5%BEka.html>













1. Děti půjdou na nákup. Kolik zaplatí?

Míla	David	Honzík	Cilka
 5 Kč  3 Kč	 4 Kč  6 Kč  2 Kč	 10 Kč  5 Kč	 9 Kč  10 Kč
___ Kč	___ Kč	___ Kč	___ Kč

2. Spočítej, kolik mají děti korun.

    	___ Kč
  	___ Kč
        	___ Kč
     	___ Kč
      	___ Kč
 	___ Kč
   	___ Kč
   	___ Kč

3. Nakupuj. Napiš, kolik korun vrátíme na 10 Kč.

NAKUPUJEME	PLATÍME	VRÁCENO
 9 Kč	 10 Kč Kč
 8 Kč	 10 Kč Kč
 3 Kč	 10 Kč Kč
 4 Kč	 10 Kč Kč
 5 Kč	 10 Kč Kč
 7 Kč	 10 Kč Kč

4. Řeš slovní úlohy.

Cilka si koupila sešit a tužku. Kolik zaplatila za nákup?



6 Kč



4 Kč

Výpočet: _____

Odpověď: Cilka zaplatila za nákup _____ Kč.

Maminka koupila sýr a veku. Kolik zaplatila za nákup?



9 Kč



10 Kč

Výpočet: _____

Odpověď: Maminka zaplatila za nákup _____ Kč.