

Název: Čísla v oboru 0 – 10 000

Autor: Jana Klementová

Vhodné zařazení : Matematika 4. ročník

Časová náročnost: 5 – 10 min

Datum ověření: 9.11.2012, 4.B

Metodické poznámky:

Pracovní list je zaměřen na zápis čísel v oboru do 10 000, rozlišení řádů čísel, porovnávání čísel a zaokrouhlování daných čísel.

List je vhodný pro samostatnou práci se společnou kontrolou.

Použité obrázky:





<http://office.microsoft.com/cs-cz/images/results.aspx?qu=hru%C5%A1ka&ex=1&origin=FX010132103#ai:MC900250816|mt:1|>


<http://office.microsoft.com/cs-cz/images/results.aspx?qu=jablko&ex=1&origin=FX010132103#ai:MC900300097|mt:1|>

<http://office.microsoft.com/cs-cz/images/results.aspx?qu=pomeran%C4%8D&ex=1&origin=FX010132103#ai:MC900250812|mt:1|>


<http://office.microsoft.com/cs-cz/images/results.aspx?qu=ban%C3%A1n&ex=1&origin=FX010132103#ai:MC900250834|>

**1/ Zapiš čísla, která představuje ovoce v oválku.**


			
1 000	100	10	1




\_\_\_\_\_




\_\_\_\_\_



\_\_\_\_\_



\_\_\_\_\_



\_\_\_\_\_

**2/ Daná čísla seřad' od nejmešihho po největší**

\_\_\_\_\_





**3/ Všechna seřazená čísla zaokrouhli:**


Na desítky: \_\_\_\_\_

Na stovky : \_\_\_\_\_


Na tisíce : \_\_\_\_\_

**Řešení: 1/ Zapiš čísla, která představuje ovoce v oválku.**


			
1 000	100	10	1




4 332




2 513



2 434



4 314



5 223

**2/ Daná čísla seřad' od nejmešihho po největših**

5 223, 4 332, 4 314, 2 512, 2 434

**3/ Všechna seřazená čísla zaokrouhli:**

Na desítky: 5 220, 4 330, 4 310, 2 510, 2 430

Na stovky : 5 200, 4 300, 4 300, 2 500, 2 400

Na tisíce : 5 000, 4 000, 4 000, 3 000, 2 000