

Název: Počítání se skřítkem

Autor: Stanislava Mašková

Datum ověření: 23.1.2013, 2.A

Vhodné zařazení: Matematika 2.ročník

Časová náročnost: 30 minut nebo dle potřeby

Metodické poznámky: Jednotlivá cvičení jsou určena pro samostatnou práci žáků v hodině. Pokyny k řešení jsou uvedeny u jednotlivých cvičení. Příklady jsou zaměřeny na procvičování sčítání a odčítání desítek v číselném oboru 0 -100 ( typ příkladů  $25 + 30, 88 - 30 \dots$ ).

Obrázky byly použity z kolekce Klipart.



# POČÍTÁNÍ SE SKŘÍTKEM

1. Skřítek přináší lidem štěstí. Nosí s sebou kouzelnou věc. Vypočítej příklady a k číslům v tabulce přiřaď správná písmena. Vyluštíš její název.













$$\begin{array}{ll} 20 + 35 = \_ \_ \_ Y & 22 + 60 = \_ \_ \_ T \\ 40 - 9 = \_ \_ \_ Ř & 50 + 48 = \_ \_ \_ L \\ 50 + 22 = \_ \_ \_ Í & 63 - 40 = \_ \_ \_ S \\ 91 - 80 = \_ \_ \_ Č & 70 - 50 = \_ \_ \_ K \\ 13 + 50 = \_ \_ \_ E & 92 - 10 = \_ \_ \_ T \end{array}$$

11	82	55	31	98	72	23	82	63	20

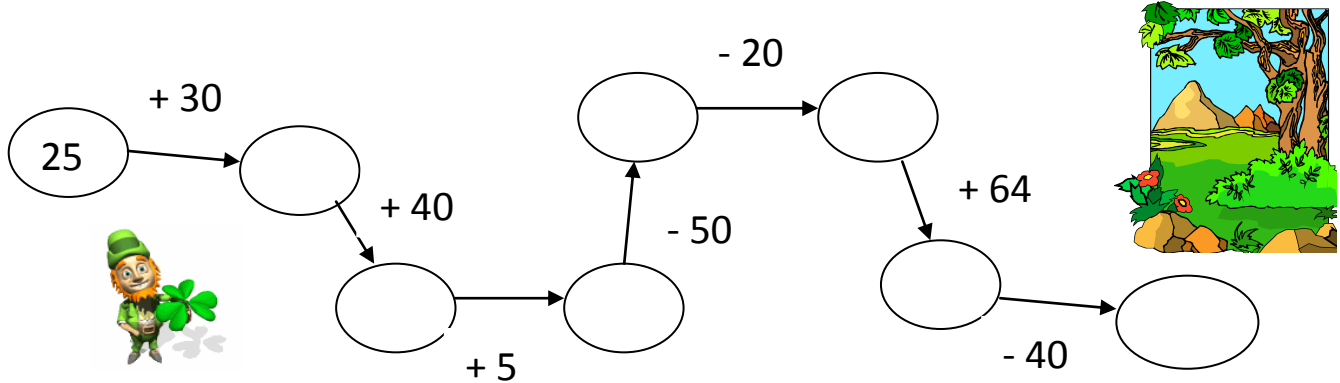
Nakresli skřítkovu kouzelnou věc.



2. Pomoz skřítkovi nasbírat co nejvíce čtyřlístků. Najdeš je u správně vypočítaných příkladů. Tyto čtyřlístky vybarvi zeleně.

$20 + 35 = 45$ 	$63 - 40 = 23$ 	$84 - 70 = 14$ 
$55 + 20 = 75$ 	$28 + 20 = 38$ 	$81 - 30 = 51$ 
$27 + 70 = 97$ 	$69 + 20 = 79$ 	$56 - 30 = 36$ 
$43 + 20 = 73$ 	$44 - 40 = 14$ 	$79 - 30 = 49$ 

3. Utíkej se skřítkem na louku, přitom počítej.



Start: 25

Step 1:  $+ 30$

Step 2:  $+ 40$


Step 3:  $+ 5$

Step 4:  $- 50$

Step 5:  $- 20$

Step 6:  $+ 64$

Step 7:  $- 40$



4. Skřítek začaroval některá čísla. Najdeš je?

$24 + \_ \_ \_ = 64$	$22 + 30 = \_ \_ \_$	$33 - \_ \_ = 23$
$31 + \_ \_ \_ = 51$	$55 + 10 = \_ \_ \_$	$62 - \_ \_ = 42$
$42 + \_ \_ \_ = 62$	$99 - 20 = \_ \_ \_$	$55 - \_ \_ = 25$
$55 + \_ \_ \_ = 95$	$85 - 60 = \_ \_ \_$	$74 - \_ \_ = 54$
$60 + \_ \_ \_ = 78$	$71 - 70 = \_ \_ \_$	$30 + \_ \_ = 66$
$10 + \_ \_ \_ = 42$	$38 - 20 = \_ \_ \_$	$50 + \_ \_ = 71$



Skřítko si vybarvi.

Napiš, co by ti měl skřítek splnit. \_\_\_\_\_