

## Skupinová práce žáků při procvičování učiva v matematice

**Autor:** Iva Ledvinková

**Šablona:** 42, matematická gramotnost

**Téma:** Absolutní hodnota racionálního čísla - 7.16










**Ročník:** 7.

**Časová náročnost:** 15 minut

### **Metodický návod:**

Každá skupina žáků dostane k dispozici obálku se zadáním (9 kartiček s příklady + klíč) a výsledkovou tabulku. Žáci si příklady rozdělí, samostatně vypočítají a výsledek zapíší na příslušné místo do připravené tabulky. Po doplnění všech políček pomocí klíče ověří správnost svých výpočtů, společně ve skupině nebo za pomoci učitele naleznou chyby a opraví si je.










### Výsledková tabulka










Matematika - 7. ročník

Absolutní hodnota racionálního čísla - 7.16

ZADÁNÍ

$  -15   +   -17  $ 	$  -6,8   \cdot   5  $ 	$  3 - 2,2   +   16,5 - 12,3  $ 
$  -0,7   \cdot   -7  $ 	$  -20   -   -9  $ 	$  80   :   -0,1  $ 
$  56 - 24   +   11,1  $ 	$\left  -\frac{5}{9} \right  \cdot   +9  $ 	$  155   -   -90  $ 
<p><b>Kontrola: 7.16</b>            a) Utvoř součty sloupců.            b) Výsledky sečti.            c) Kontrolní číslo: 1000.</p>		

ŘEŠENÍ

32 	34 	5 	
4,9 	11 	800 	
43,1 	5 	65 	
<p><b>Kontrola: 7.16</b></p>			
80	50	870	<u>1000</u>