

Název: Počítáme do 1000 s bankovkami a mincemi

Autor: Jana Klementová

Ročník: Matematika - 3. ročník

Časová náročnost: 10 min

Datum ověření: 2.2.2012

Metodické pokyny:

Žáci se herní formou seznamují s čísly do 1000. Pomocí korun zjišťují možnosti nákupu jednotlivých hraček. Pracovní list je možné použít pro individuální i párovou práci. Vhodná je společná kontrola.

Použité obrázky:

<http://office.microsoft.com/cs-cz/images/results.aspx?ex=2&qu=panenka#ai:MC900297903|mt:1|>

<http://office.microsoft.com/cs-cz/images/results.aspx?qu=auto&ctt=1#ai:MC900426056|mt:1|>

<http://office.microsoft.com/cs-cz/images/results.aspx?ex=2&qu=kolo#ai:MC900351243|mt:1|>

<http://office.microsoft.com/cs-cz/images/results.aspx?qu=kostky&ctt=1#ai:MC900355663|mt:1|>

<http://office.microsoft.com/cs-cz/images/results.aspx?ex=2&qu=letadlo#ai:MC900337860|mt:1|>

Počítáme do 1000 s bankovkami a mincemi

1) Kolik mám korun?

- Mám 4 stokoruny, 5 desetikorun, 7 korun.
- Mám 7 stokorun, 3 desetikoruny, 6 korun.
- Mám 3 stokoruny, 9 desetikorun, 2 koruny.
- Mám 6 stokorun, 7 desetikorun, 9 korun.

MámKč.

MámKč.

MámKč.

MámKč.


2) Doplň tabulku pod obrázky, jak zaplatíš.




486 Kč




329 Kč



987 Kč



247 Kč



531 Kč



176 Kč

Zboží	auto	panenka	stavebnice	letadlo	kolo	maňásek
Počet stokorun						
Počet desetikorun						
Počet korun						

3) Umíš nakupovat?

V peněžence máš 300 Kč. Které hračky si můžeš koupit?

V peněžence máš 500 Kč. Které hračky si nyní můžeš koupit?

V peněžence máš stále 500 Kč. Kolik Kč ti chybí ke koupi stavebnice?

V peněžence máš 8 stokorun, 8 desetikorun a 7 korun. Kolik máš korun? Můžeš si koupit za tyto peníze kolo? _____

Ano x ne / kolik korun ti chybí/

4) Kolik Kč chybí do 1000 Kč?

	Do 1000 Kč chybí		Do 1000 Kč chybí
300 Kč		250 Kč	
600 Kč		150 Kč	
900 Kč		950 Kč	
400 Kč		750 Kč	